

Προβλημάτjκια για να
λύσω!



ΠΡΟΒΛΗΜΑΤΑ ΜΕ + - Χ ÷

Όνομα Τάξη Ημερομηνία

Διαβάζω τα προβλήματα.

Βρίσκω την ερώτηση(στην σελίδα με τις ερωτήσεις) που ταιριάζει και την αντιγράφω.

Κυκλώνω την μαθηματική πρόταση που ταιριάζει και την λύνω.

- 1) Το εργοστάσιο «ΓΛΥΚΑ» ετοίμασε 1617 κέικ βανίλιας τη Δευτέρα. Την Τρίτη ετοίμασε ακόμη 3284.

.....

α) $1617 + 3284 =$ β) $3284 - 1617 =$ γ) $1617 \times 3284 =$

- 2) Στον λογαριασμό μου έχω 5592€. Αγόρασα ένα ποδήλατο 4408€.

.....

α) $5592 + 4408 =$ β) $5592 - 4408 =$ γ) $5592 \div 1 =$

- 3) Η βιβλιοθήκη του σχολείου μας διαθέτει 347 βιβλία. Στο σχολείο της φίλης μου υπάρχουν τα τριπλάσια βιβλία.

.....



α) $347 \times 3 =$ β) $347 + 3 =$ γ) $347 \div 3 =$

4) Στο περιβόλι του κυρ Αντώνη υπάρχουν 730 ελιές. Χτες κλάδεψε τις 124 ελιές.

.....

α) $730 - 124 =$ β) $730 + 124 =$ γ) $730 \chi 124 =$

5) Ο κηπουρός της κυρίας Άννας φύτεψε από 609 σπόρους λαχανικών στους 2 κήπους του σπιτιού της.

.....

α) $609 + 2 =$ β) $609 \chi 2 =$ γ) $609 \div 2 =$

6) Η δασκάλα κρατά 40 λαχεία για να τα μοιράσει σε 8 παιδιά.

.....

α) $40 - 8 =$ β) $40 + 8 =$ γ) $40 \div 8 =$



ΔΙΑΛΕΓΩ ΤΗΝ ΣΩΣΤΗ ΕΡΩΤΗΣΗ

Πόσες ελιές έμειναν για κλάδεμα ακόμη;

Πόσα βιβλία υπάρχουν στο σχολείο της φίλης μου;

Πόσες χρήματά μου έμειναν στον λογαριασμό;

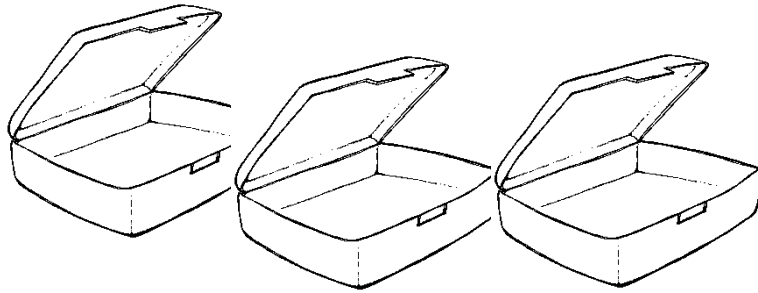
Πόσους σπόρους φύτεψε σε κάθε κήπο ο κηπουρός;

Πόσα κέικ ετοίμασε το εργοστάσιο συνολικά;

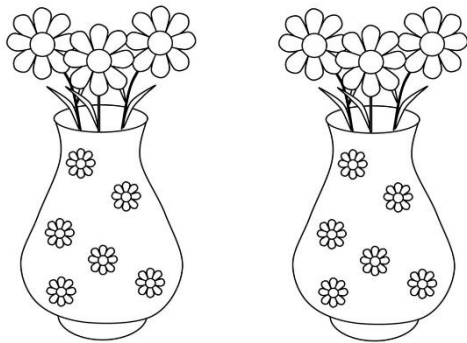
Πόσα λαχεία θα πάρει το κάθε παιδί;




ΓΡΑΦΩ ΤΗΝ ΜΑΘΗΜΑΤΙΚΗ ΠΡΟΤΑΣΗ ΠΟΛΛΑΠΛΑΣΙΑΣΜΟΥ ΠΟΥ ΤΑΙΡΙΑΖΕΙ



.....



.....

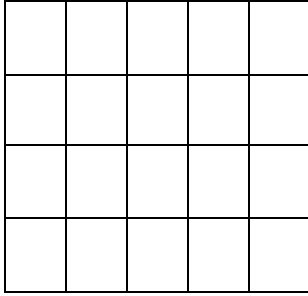


.....

ΓΡΑΨΕ ΤΗΝ ΕΞΙΣΩΣΗ ΠΟΛΛΑΠΛΑΣΙΑΣΜΟΥ ΠΟΥ ΤΑΙΡΙΑΖΕΙ

.....

.....



.....

ΔΕΙΞΕ ΜΕ ΕΝΑ ΣΧΕΔΙΟ ΑΥΤΟ ΠΟΥ ΣΟΥ ΖΗΤΑ Η ΕΞΙΣΩΣΗ

$$5 \times 2 = 10$$

$$3 \times 3 = 9$$

$$4 \times 0 = 0$$



Βοήθεια :
λέξεις κλειδιά
για την κάθε
πράξη!

και

αυξηθηκαν

ακόμη

πήρα

κέρδισα

ΠΡΟΣΘΕΣΗ +

έφυγαν

ξόδεψα

έχασα

μειώθηκαν

έδωσα

ΑΦΑΙΡΕΣΗ -

διπλάσιο

φορές

στο καθένα

τριπλάσιο

ΠΟΛΛΑΠΛΑΣΙΑΣΜΟΣ Χ

χωρίζω

μοιράζω

μισό

κομματιάζω

ΔΙΑΙΡΕΣΗ ÷

Βρίσκω τις απαντήσεις και συμπληρώνω τον κωδικό!! Τι μας λέει;;;;;

A $30 \times 2 = \dots$

E $20 \times 5 = \dots$

T $100 \div 5 = \dots$

Φ $90 \div 3 = \dots$

P $3 \times 50 = \dots$

K $140 \div 2 = \dots$

Σ $40 \div 20 = \dots$

20	60
----	----

70	60	20	60	30	100	150	100	2
----	----	----	----	----	-----	-----	-----	---

Σημείωση Όπως και με τα άλλα φύλλα εργασίας κι αυτά μπορούν να εκτυπωθούν (αν υπάρχει η επιλογή) ή να δοθούν οι απαντήσεις σε ένα φύλλο χαρτί!

